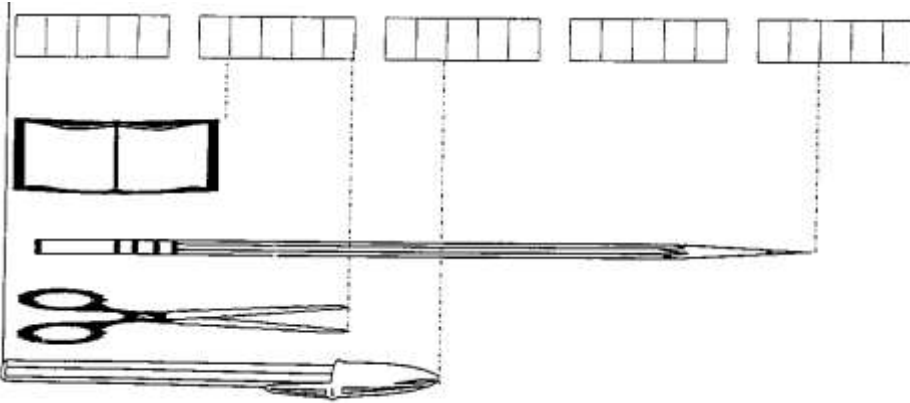







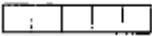




۱- با توجه به شکل زیر، در جای خالی عدد مناسب بنویس.



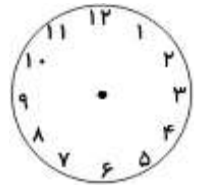
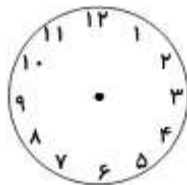
اندازه ی  ..... و  ..... است .

اندازه ی  ..... و  ..... است .

اندازه ی  ..... و  ..... است .

اندازه ی  ..... و  ..... است .

۲- زمان های خواسته شده را بنویس .



یک ربع بعد از ۸ : ۱۵ دقیقه : .....

نیم ساعت بعد از ۲ : ۳۰ دقیقه : .....

یک ساعت بعد از ۱۰ : ۱۵ دقیقه : .....

۳- الگوی عددی زیر را ادامه بده .

..... و ..... و ..... و ۲۵ ، ۳۲

..... و ..... و ..... و ۲ ، ۴ ، ۷

..... و ..... و ..... و ۸۰ ، ۹۰

۴- با توجه به عددهای داده شده جاهای خالی را کامل کن .

۶۳
۶۰ + .....
..... + ۲۱
..... + ۳۷

۲۲
۱۰ + .....
۱۵ + .....
..... + ۲

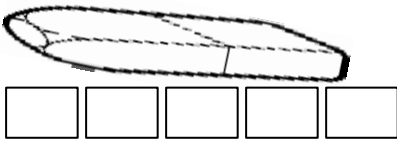
۱۵
۸ + .....
۱۴ + .....
..... + ۱۰

۵- با توجه به تعداد گیره ها جاهای خالی را کامل کن .

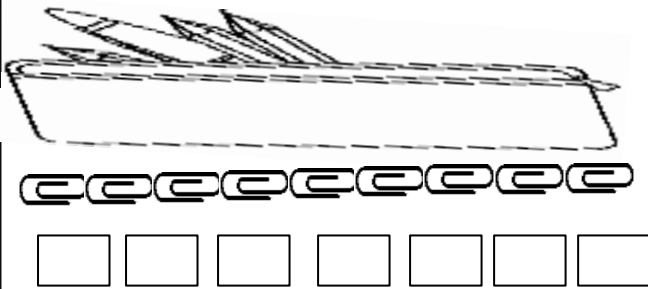
طول مداد بین ..... گیره و ..... گیره است .



طول پاک کن بین ..... چینه و ..... چینه است .



طول جامدادی بین ..... چینه و ..... چینه است .



طول جامدادی بین ..... گیره و ..... گیره است .

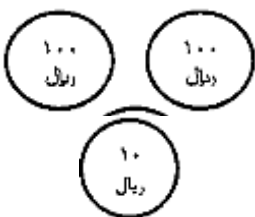
چرا برای جامدادی عددهای مختلف به دست آمده است ؟

.....

۶- علامت < = > بگذار .

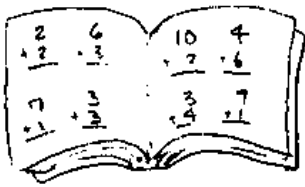
ده میلی متر  ۱ سانتی متر

۳ یکی و ۵ ده تایی  ۴ صدتایی و ۳ ده تایی



$10 + 10 + 5 + 3$    $20 + 10$

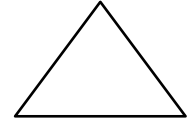
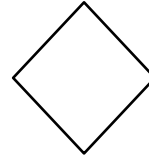
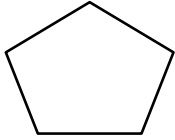
۷- درازی کتاب ریاضی خود را با وجب دست و پاک کن اندازه بگیر و جاهای خالی را پر کن .



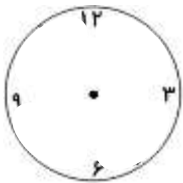
درازای کتاب ..... وجب و ..... است .

درازای کتاب ..... پاک کن و ..... پاک کن است .

۸- خط تقارن هر یک از شکل های زیر را رسم کن .



۹- اگر زهرا برای کیک ۲۴ سالگی خود ۱۲ شمع داشته باشد ، او باید چند شمع دیگر تهیه کند ؟ ( از راه فرآیندی )



۱۰- اکنون ساعت ۸ است ۳ ساعت بعد ساعت چند می شود: .....

عددهای ساعت را کامل کن و در پایان جواب به دست آمده را روی ساعت نشان بده.

۱۱- یک فروشنده ۷ بسته ی ده تایی مداد داشت . او ۳۴ تایی آن را فروخت حالا چند مداد برایش باقی مانده است ؟ ( فرآیندی )

\*۱۲. مادر بزرگ مینا ۳۶ سال دیگر، تولد صدسالگی خود را جشن می گیرد.

مادر بزرگ، امسال چند ساله است؟

سؤال شماره ۱۲

(ب) ۶۴

(الف) ۷۴

(د) ۳۶

(ج) ۶۶