



مجمع فرهنگی-آموزشی کوشش  
تاسیس ۱۳۷۲



# بادبادکی

پایه  
سوم

شماره  
۴

نام و نام خانوادگی:

.....

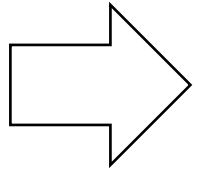

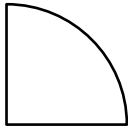
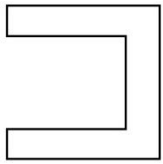




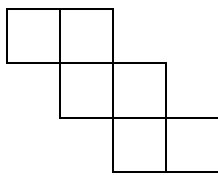
۱. هر يك از ساعت‌های زیر را به بعد از ظهر برگردانید و بنویسید.

ساعت	۴:۲۹'	۶:۳۷'	۹:۰۵'	۸:۱۰'	۱۰:۳۰'
بعد از ظهر					

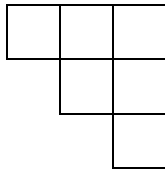
۲. خط تقارن شکل‌های زیر را رسم کنید.



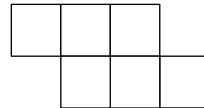
۳. با کدام يك از شکل‌های زیر می‌توانید مکعب بسازید؟ (آن را رنگ کنید).



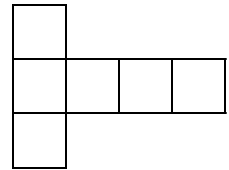
(د)



(ج)

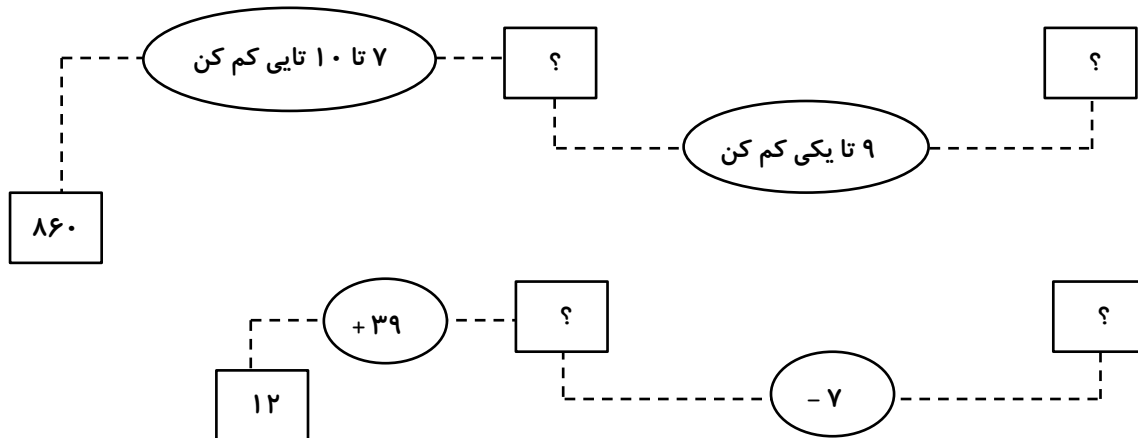


(ب)



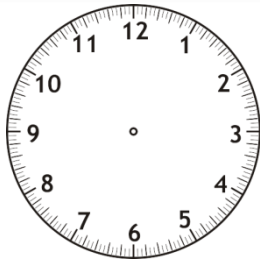
(الف)

۴. به جای علامت سوال عدد مناسب بنویسید.



۵. قطاری ساعت ۵ صبح از تهران حرکت کرد و ۱۱ ساعت بعد به شهر یزد رسید. این قطار چه ساعتی از بعد از ظهر به

مقصد رسیده است؟ (همراه با جلونویسی و خلاصه نویسی)



۶. روی ساعت مقابل ساعت ۱۴:۲۵ را نشان دهید.

علوم

۱. چرا باید از همه‌ی گروه‌های مختلف غذایی به مقدار نیاز مصرف کنیم؟

.....

.....




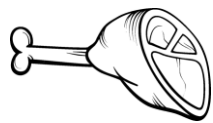
۲. هر یک از مواد غذایی زیر در چه شرایطی باید نگهداری شوند؟

- گوشت و ماهی: .....

- گندم و سیب‌زمینی: .....

۳. موقع خرید مواد غذایی از بازار باید به ..... آنها توجه کنیم.

۴. علاوه بر مواد غذایی که می‌بینید، نام دو ماده‌ی غذایی دیگری را که مربوط به هر گروه است، در جای مناسب بنویسید.

			
.....	.....	.....	.....
.....	.....	.....	.....

فارسی

۱. جای خالی جمله‌ی زیر را کدام کلمه کامل می‌شود؟

..... از بوستان بر می‌گردیم.

الف) ما       ب) من و دوستم       ج) من و خانواده‌ام       د) هر سه مورد

۲. جاهای خالی جمله‌های زیر را با کلمه‌های مناسب کامل کنید.

- آنها غذایشان را .....

- تو و برادرت همه‌ی راه را پیاده .....

۳. به نوشته‌ی کوتاه که جمله‌های آن درباره‌ی یک مطلب باشد، یک ..... می‌گویند.