

۱- در یک جعبه ۹۰۰۰ آبنبات وجود دارد. اگر ۴ بسته ی صدتایی و یک بسته هزارتایی و ۲ یکی از آن برداریم چند آبنبات خواهیم داشت؟

۲- کوچکترین و بزرگترین عدد چهار رقمی که با رقم های ۹، ۲، ۰، ۵ می توان نوشت کدام است؟

۳- کوچکترین عدد چهار رقمی غیر تکراری که رقم یکان آن ۸ باشد، کدام است؟

۴- عدد جدول مقابل برابر با کدام گزینه ی زیر است؟

یکان	دهگان	صدگان	هزارگان
۲	۸	۰	۷

الف) ۱۲ یکی، ۷ ده تایی، ۰ صدتایی، ۷ هزارتایی

ب) ۲۲ یکی، ۶ ده تایی، ۱۰ صدتایی، ۶ هزارتایی

ج) ۲۲ یکی، ۶ ده تایی، ۱۰ صدتایی، ۶ هزارتایی

د) گزینه های ۱ و ۲ درست است

۵ - مجموع رقم های بزرگترین عدد چهار رقمی فرد غیر تکراری چیست؟

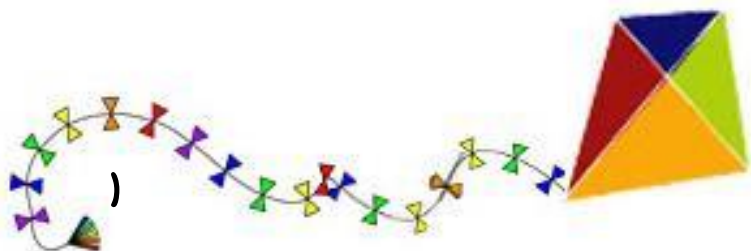
۶- صدگان عددی ۵ تا بیش تر از یکانش و هزارگان آن برابر با دهگانش است. آن عدد کدام است؟

۶۷۵۲ (د)

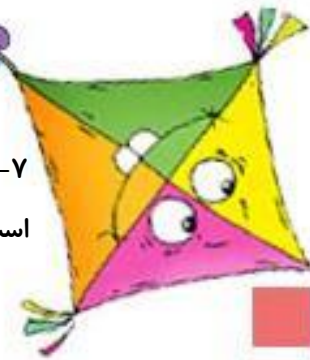
۹۱۹۶ (ج)

۴۶۴۱ (ب)

۳۷۳۱ (الف)



۷- فاصله ی خانه ی وندا تا مدرسه ۳ کیلومتر و ۶۵۰ متر است. فاصله ی خانه ی او تا مدرسه چند متر است؟



۸- ۹۱۰۲ متر چند کیلومتر و چند متر است؟

۷ کیلوگرم و ۹۱ گرم، چند گرم است؟

۹- ۵ کیلومتر چند تا ۱۰۰ متر است؟

۷۱۲۳ گرم، چند گرم و چند کیلوگرم است؟

۱۰- پدر روشا یک جعبه توت فرنگی خرید که جرم آن ۵ کیلوگرم بود. وقتی به خانه رفت جرم جعبه ی خالی را با ترازو گرفت دید ۴۵۰ گرم است. جرم توت فرنگی ها بدون جعبه چند کیلوگرم و چند گرم است؟


علوم

۱- جمله های زیر را کامل کنید.

الف) برای اندازه گیری مقدار مایعات از واحدی به نام ..... استفاده می شود.

ب) برای اندازه گیری جرم مواد از واحدی به نام ..... استفاده می کنیم.

ج) برای اندازه گیری جرم مواد از وسیله ای به نام ..... استفاده می شود.



پایه سوم

پیش دبستان و دبستان غیر دولتی کوهس