




# امی نامم بوستترین آغاز



۱- گل هایی که کلمه های هم معنی را نشان می دهد، هم رنگ کنید.



۲- نوشته ی زیر را با دقت بخوانید و زیر کلمه هایی که نشانه های جمع (ها-ان-ات) دارند خط بکشید.

در یک روز سرد پاییزی، باد شروع به وزیدن کرد و برگ های درختان یکی یکی روی زمین افتاد.

فاطمه به یاد لحظات شیرین بهاری افتاد که جوانه زدن این برگ ها را دیده بود.



۳- با استفاده از کلمات داده شده جدول را کامل کن.

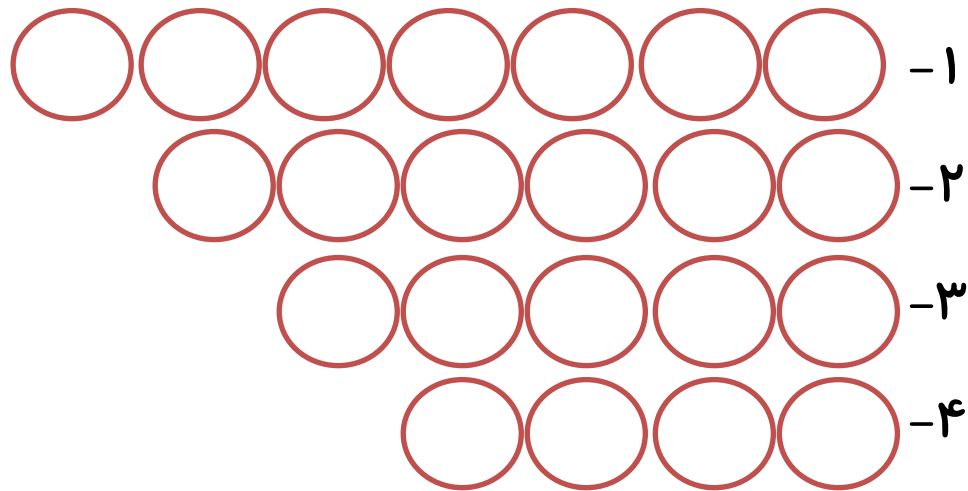
**دینی، ورزشی، بهداشتی، فرهنگی**

۱- آزاده خانه ی سلامت را مکان ----- می داند.

۲- شما سینما را مکان ----- می دانید.

۳- من استخر را مکان ----- می دانم.

۴- ما مسجد را مکان ----- می دانیم.



۴- هر کدام از کلمه های داده شده با کدام قسمت ترکیب می شود و یک کلمه ی با مفهوم ساخته می شود.

دان	ستان	مند	ناک	
				خطر
				هنر
				شمع
				کوه



۵- پسرم چشمهایت را ببند و به اعماق جنگل برو، چه چیزهایی می بینی و چه صداهایی می شنوی. آن ها را بنویس.




---




---



---



---



۱- لوازم التحریر فروشی، یک مداد را ۵۰۰ تومان می خرد و ۶۰۰ تومان می فروشد. اگر فروشنده از فروش هر مداد ۱۰۰ تومان سود ببرد:


الف) چند مداد بفروشد تا ۴۰۰ تومان سود ببرد؟

ب) اگر ۷ مداد بفروشد چند تومان سود می برد؟

تعداد مداد	۱					
تومان سود	۱۰۰					



۲- معمولاً خورشید در تابستان ۶ صبح طلوع می کند. اگر خورشید ساعت ۸ بعد از ظهر غروب کند طول روز چند ساعت است؟

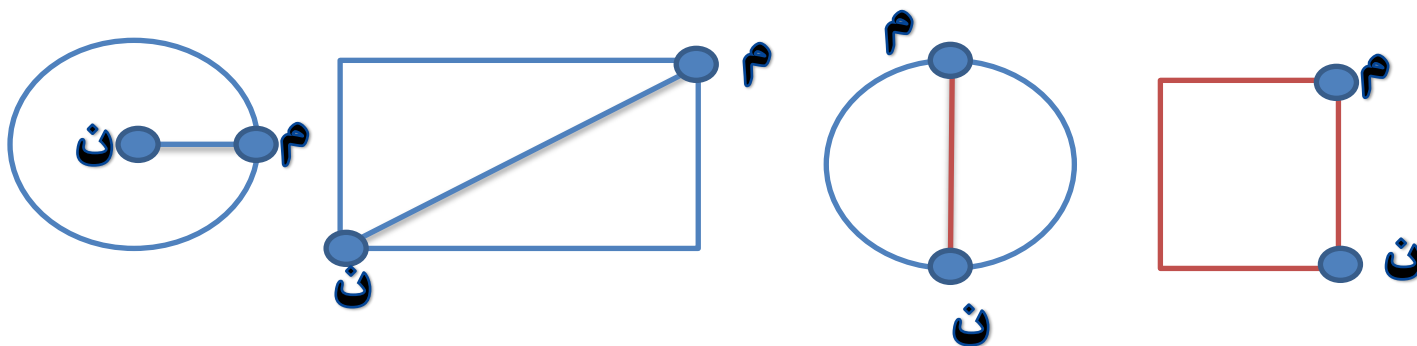


۳- مریم ۱۸ سال دارد و برادرش ۶ ساله است. سن مریم چند برابر سن برادرش است؟

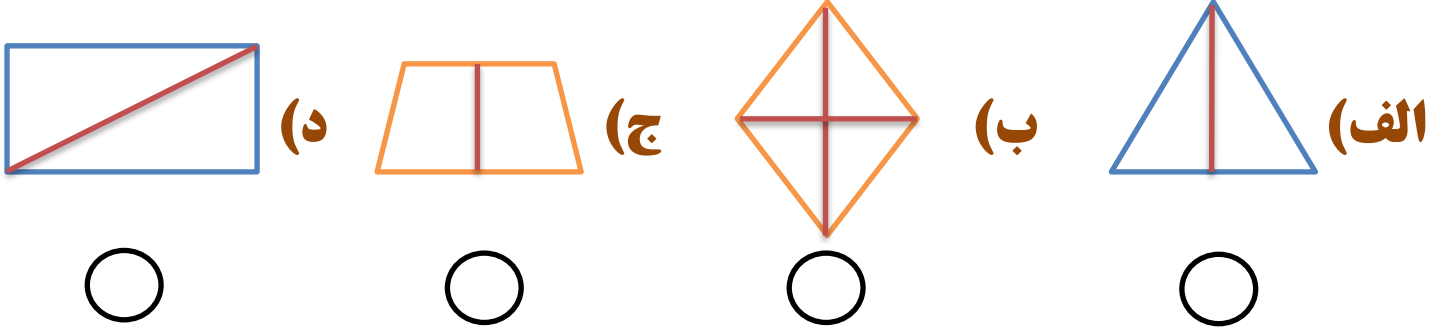
۴- خطوطی که با هم موازی هستند با یک رنگ، نشان بده.





۵- پاره خط ( م ن ) در هر شکل چه نام دارد؟



۶- خط تقارن کدام شکل درست رسم نشده است؟



۷- نام هر شکل را بنویس و محیط آن را به کمک ضرب پیدا کن.  
(در شکل ها همه ضلع ها مساوی است)





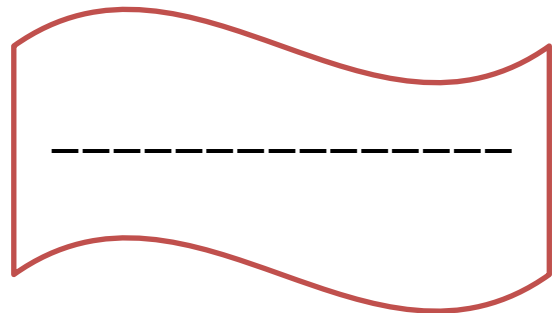
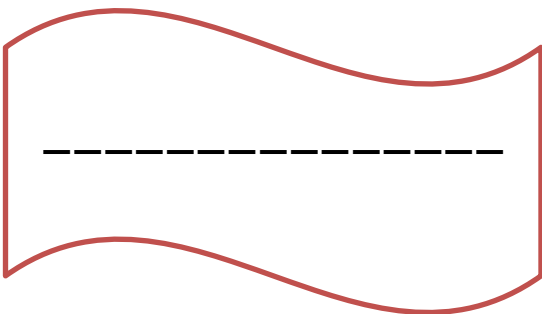
۱- جمله های درست و نادرست را با علامت (x) مشخص کنید.

درست	نادرست

- آینه های معمولی را آینه های تخت هم می گویند.
- آینه دندان پزشکی از نوع آینه ی برآمده است.
- وقتی نور به جسمی بتابد و بازتاب آن به چشم ما برسد می توانیم آن جسم را ببینیم.
- یکی از شرایط دیدن اجسام این است که چشمان سالم و باز داشته باشیم.

۲- زمانی که توپ را با دست می گیریم اثر نیرو بر توپ باعث ----- می شود.

۳- دو وسیله نام ببر که از مواد نفتی ساخته شده اند.



۴- با توجه به تصاور جدول را کامل کن.



هم کشیدن و هم هل دادن	کشیدن	هل دادن	کارها
			فشردن زنگ در
			باز و بسته کردن دراتاق
			بازی یویو
			بردن کیف چرخ دار





۱- گزینه ی صحیح را با علامت (x) مشخص کن.

❖ روز تولد حضرت زینب(س) چه روزی است؟

الف) روز مادر  ب) روز دختر  ج) روز پرستار  د) روز جانباز

❖ کدام کارها از واجبات است؟

الف) خواندن نماز  ب) نگاه نکردن به نامحرم

ج) احترام به پدر و مادر  د) همه موارد

❖ ما مسلمانان هر روز چند نوبت نماز می خوانیم؟

الف) ۲ نوبت  ب) ۴ نوبت  ج) ۳ نوبت  د) ۵ نوبت

❖ نام آخرین پیامبر خدا را بنویس.

-----







۱- چند نوع زباله داریم؟ نام ببرید.

۲- برای این که منابع طبیعی را درست صرف کنیم چه کارهایی می توانیم انجام دهیم. (۲ مورد)

۳- برای بیرون گذاشتن زباله چه نکاتی را باید رعایت کنیم.

۴- بازیافت را تعریف کن و دو مثال برای آن بنویس.





## سوال هایی از بروشور اشاره شماره ۱۳۵

❖ پسرم برای پاسخگویی به سوالات زیر به بروشور اشاره شماره ۱۳۵ مراجعه نمایید.

۱- خویشتن داری ..... که رفتار اخلاقی ما را هدایت می کند.

۲- مهربانی به معنی ..... است.

۳- وقتی رفتار غیر محترمانه ای از فرزندمان می بینیم، با او چه برخوردی داشته باشیم؟

---

---

---

۴- لازمه ی بردباری ..... است.

۵- ویژگی های اخلاقی بردباری به فرزندانمان چه چیزهایی می آموزد؟

---

---

---

۶- ابتدایی ترین رفتارهای ضروری که برای منصف بودن فرزندانمان باید به

آن ها آموزش دهیم، کدام است؟

---

---

---

