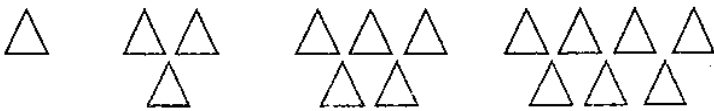


ریاضی

۱- برای ساختن یک میز ۴ نفره به ۴ پایه، یک میزه ۸ نفره به ۶ پایه و یک میز ۱۲ نفره به ۸ پایه نیاز داریم. آیا می‌توانید بگویید برای ساختن یک میز ۱۶ نفره به چند پایه نیاز داریم؟

به نظر شما یک میز ۱۲ پایه برای چند نفر مناسب است؟

۲- شکل دهم، چند مثلث خواهد داشت؟



۳- محسن، از اول آذر هر ۴ روز یک بار به استخر می‌رود اگر بدانیم ماه آذر ۳۰ روزه است.

الف) محسن در آذرماه چندبار به استخر می‌رود؟

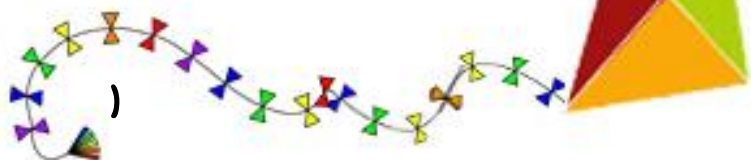
ب) اگر محسن ۴ بار به استخر رفته باشد، تقریباً چند هفته گذشته است؟

علوم

۱. مهم‌ترین وعده‌ی غذایی که طی یک روز مصرف می‌کنیم، کدام است؟

الف) صبحانه ب) ناهار ج) شام

پایه سوم



۲. کدام یک از خوراکی‌های زیر برای بدن مفید است؟


- الف) کیک ب) پفک ج) بیسکویت د) آجیل

۳. به نظر شما کدام یک از گزینه‌های زیر خوراکی‌های مناسبی را برای ناهار نشان می‌دهد؟

- الف) پیتزا، نوشابه، سیب‌زمینی سرخ شده ب) جوجه کباب، سبزی خوردن، دوغ

فارسی

۱. کلمه‌هایی از درس «زنگ ورزش» در درس پیدا کن که چهار نقطه داشته باشند.



۲. در جای خالی کلمه‌ی مناسب بنویسید.

الف) هفته‌ی گذشته مادرم از سفر

ب) کودکان در پارک با یکدیگر بازی

ج) در برنامه صبحگاهی سرود زیبایی خواندیم.

د) هم می‌توانی در کتاب‌خانه عضو شوی.

۳. دور کلمه‌ی مناسب خط بکش.

روزِ فرزندِ حاکمِ بیمار _____ شدم
_____ گرفتید آتشِ خوشمزه‌ای _____ پزیم
_____ شد _____ گرفتند

آن‌ها در کار هم دخالت _____ می‌کردند
_____ شدیم سرانجام آتش شور و بدمزه _____ شد

پایه سوم

پیش دبستان و دبستان غیر دولتی کوهن



اجتماعی



۱. شما اکنون می‌توانید بخوانید و بنویسید؛ یعنی شما

۲. خط زمان، تفاوت در زمان کشورهای مختلف را نشان می‌دهد. درست نادرست

۳. به نظر شما چرا نوزادان به جای حرف زدن گریه می‌کنند؟

هدیه

۱- چگونه می‌توانیم از نعمت‌های خدا تشکر کنیم؟

الف) الحمدالله بگوییم.

ب) در مصرف نعمت‌های او اسراف نکنیم.

ج) هر دو مورد.

۲- از داشتن نعمت‌های فراوانی که در من وجود دارد، بسیار هستم.

الف) بی تفاوت ب) ناراحت ج) خوشحال

۳- در بدن ما نعمت‌های فراوانی وجود دارد که به خاطر آن نعمت باید خدا را کنیم.

