



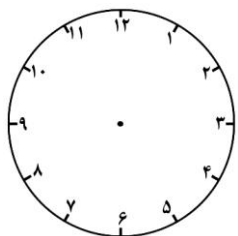
تاریخ :

کلاس : سوم

۱- مانند نمونه جدول زیر را کامل کن .

۱۸	۲۰:۴۵	۲۲:۱۵		۱۷:۳۰	۱۴	۱۵:۳۰
بعد از ظهر →	۶	۷:۲۰		۹:۰۵	۱۱:۱۸	۱:۱۰

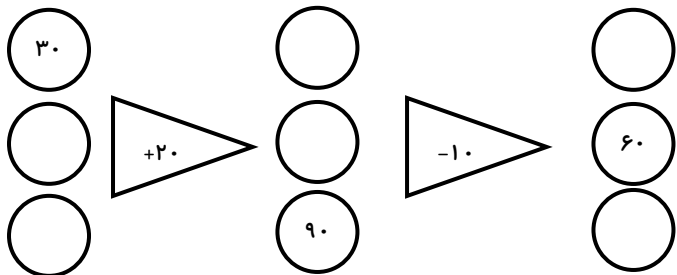
۲- ستایش ساعت ۷ صبح از خانه خارج و به مدرسه می رود و بعد از ۶ ساعت به خانه بر می گردد . او چه ساعتی به منزل برگشته است ؟ ( به دو صورت بنویسید و روی ساعت نمایش دهید )



ساعت : ..... بعد از ظهر

ساعت : .....


۳- جاهای خالی را کامل کن .



۴- ملیکا به خاطر بیماری مجبور است هر ۸ ساعت دارو بخورد . اگر او ساعت ۱۱ صبح دارو خورده باشد داروی بعد را ساعت چند باید مصرف کند ؟

ساعت : ..... بعد از ظهر یا .....

۵- قطار تهران مشهد ساعت ۹:۳۰ صبح از تهران به سمت مشهد حرکت کرد و پس از ۱۱ ساعت به مشهد رسید . قطار چه ساعتی به مشهد رسید ؟

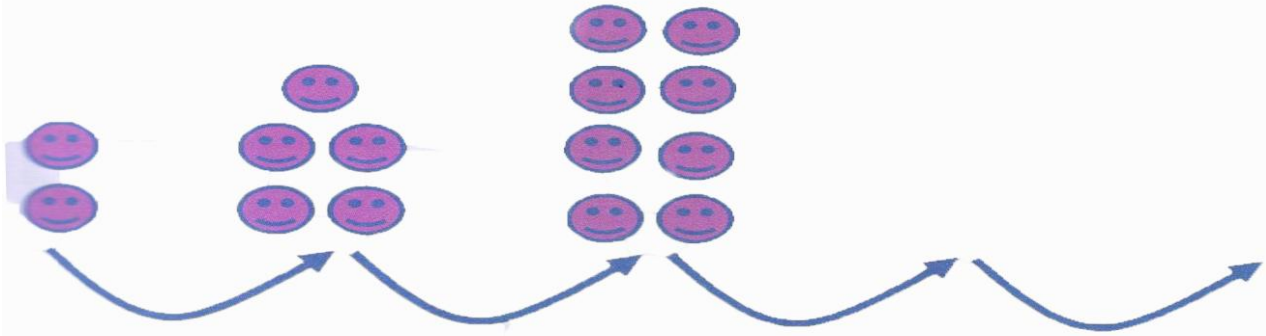


۶- به جای  چه عددی باید نوشت .

۲، ۳، ۵، ۸، ۱۲، ، ۲۳،

۳۰، ۲۵، ۲۱، ۱۸، ۱۶،

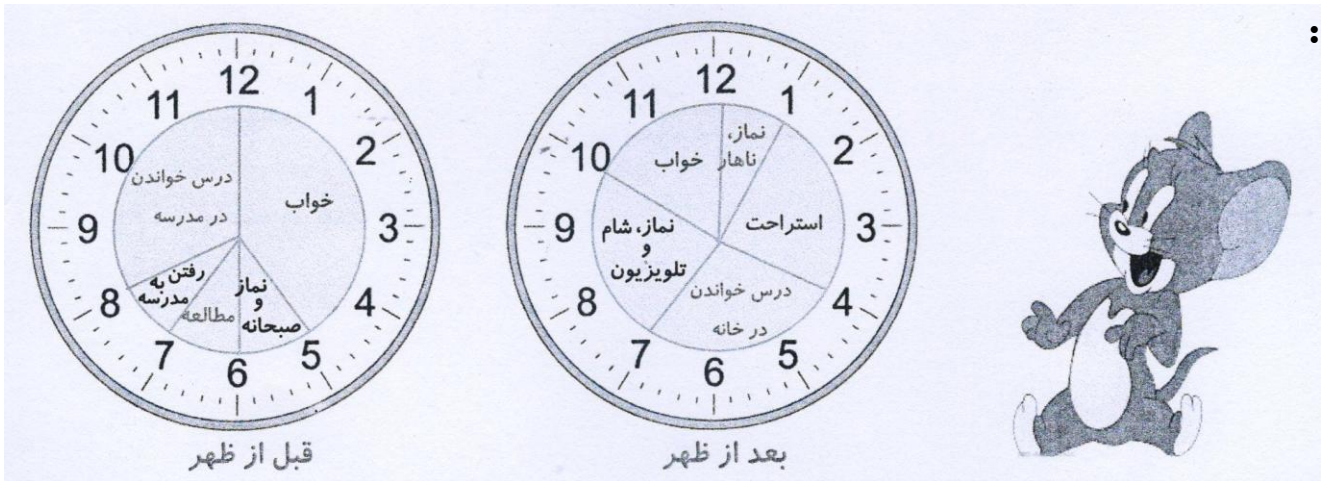
۷- فرزندانم الگوهای زیر را ادامه بده و توضیح بده چه رابطه ای بین عددها و شکل ها وجود دارد .



$14 + 5 = \square$

۸- برای جمع روبرو یک مسئله بنویس و آن را حل کن .

۷- روی ساعت های زیر کارهایی که آرمان در یک شبانه روز انجام داده مشخص شده است . با توجه به آن به سوالات زیر پاسخ بده :



آرمان در مجموع چند ساعت خوابیده است؟ .....

آرمان در مجموع چند ساعت درس می خواند؟ .....

آرمان در مجموع چند ساعت به نماز خواندن ، استراحت و تماشای تلویزیون پرداخته است؟ .....

تا حدودی	خیر	بله	انتظارات آموزشی ( خودارزیابی )