



تاریخ: .....

پایه: سوم

## فصل اول

۱. در جاهای خالی عدد مناسب بنویسید.

$$۴۳۵ = ۴۰۰ + \dots\dots\dots$$

$$۵۶ - ۳۰ = \dots\dots\dots$$




$$\dots\dots\dots + ۷۰ = ۱۵۰$$

$$۲۱۹ - \dots\dots\dots = ۱۸۰$$

۲. رقم صدگان عددی ۶ و دهگان آن ۳ و یکان آن مجموع ارقام صدگان و دهگان است. این عدد را به رقم و حروف بنویسید.



به رقم



به حروف

۳. سارا ۷۸۰ تومان داشت. اگر یک خودکار ۵۵۰ تومانی بخرد، چند تومان برایش می ماند؟




۴. جمع و تفریق کنید.

۵. با رقم های ۰ و ۹ و ۷ کوچک ترین و بزرگ ترین عدد سه رقمی را بسازید.



کوچک ترین



بزرگ ترین

۶. بین این دو عدد چند عدد وجود دارد.

۶۹۷ و ۷۰۳

۷. جای خالی را پر کنید.



۸. این شکل ها را به دو روش دسته بندی کنید و تعداد آن ها را با استفاده از جمع بنویسید.



روش اول: .....

روش دوم: .....

تعداد: .....






روش اول: .....

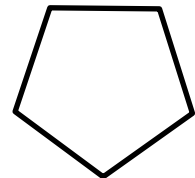
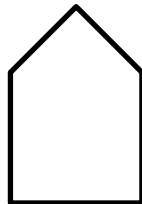

روش دوم: .....

تعداد: .....

۹. رابطه ی بین الگوها را کشف کن و برای آن داستانی تعریف کنید.



۱۰. برای هر کدام از شکل های زیر، یک خط تقارن رسم کنید.



۱۱. \* اگر آخرین روز شهریور شنبه باشد، شنبه ی هفته ی آینده چندم مهر است؟

