



تاریخ:

پایه: سوم

فصل اول

۱. من روز جمعه ساعت ۱۵ : ۷ صبح به همراه مادرم از خانه خارج شدم.
در ساعت ۳۵ : ۶ بعد از ظهر به خانه برگشتم. من و مادرم چند ساعت بیرون از خانه بودیم؟

معنا



۲. نام من چیست؟
من ۶ طرف دارم. همه ی طرف های من به شکل مربع های مساوی است. شکل من را رسم کنید.

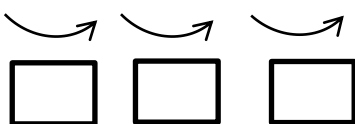
۳. بزرگ ترین عدد سه رقمی با رقم های (۲ ، ۵ ، ۸) که دهگانش ۸ باشد را بنویسید.

۴. دبستانی ۱۳۰ نفر دانش آموز دارد. تعداد دانش آموزان اول تا چهارم ۹۸ نفر است. تعداد دانش آموزان کلاس پنجم چند نفر است؟



۵. با استفاده از ماشین حساب ادامه بدهید.

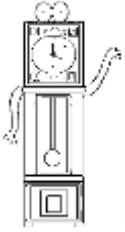
۷۲ - ۸۰ - ۷۶ - ۸۴ - - - -




۶. با ادامه دادن الگو، پاسخ دهید.
در شمارش ۸ تا ۸ تا ۳ عدد بعد از ۶۴۰ می شود

..... و و و ۶۴۰

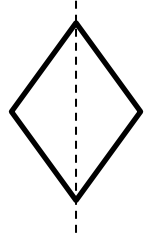
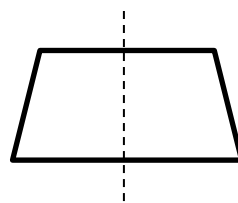
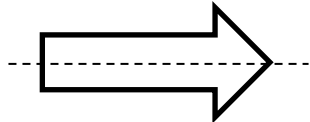
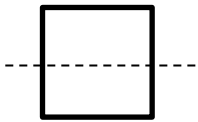
۷. ساعت دیواری خانه ی ما ۲ ساعت عقب است و ساعت ۵۵ : ۱۴ را نشان می دهد. ساعت دقیق چند بعد از ظهر است؟




۸. مقداری روبان داریم. اگر ۵۱۱ متر آن را برای جشن تکلیف جدا کنیم ۵۶ متر آن باقی می ماند، روبان ما چند متر است؟



۹. برای کدام یک از شکل های زیر باز هم می توان خط تقارن کشید؟ (رنگ بزنید.)



۱۰. هر ساعت را به زمان برابر با خودش وصل کنید.



۱۵ دقیقه بعد از
ساعت ۳ بعد از ظهر

ساعت
۱۴ و پانزده دقیقه

۳۵ دقیقه قبل از
ساعت ۲۲

۱۵ : ۲ بعد از ظهر

۲۵ : ۹ بعد از ظهر

۱۵ : ۱۵