



پایه سوم

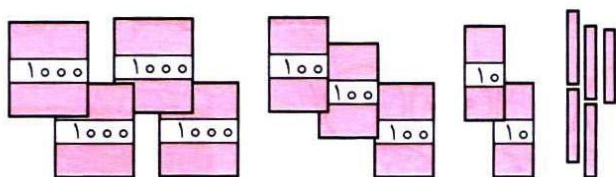
دبستان پسرانه غیر دولتی طلوع مهر

نام و نام خانوادگی:

# ریاضی

۱ با توجه به شکل، عدد را داخل جدول بگذار و به حروف بنویس.

۱



یکان	دهگان	صدگان	هزارگان

حروف:

۲ یک عدد چهاررقمی بنویس که هزار آن بزرگترین عدد زوج یکرقمی، دهگان کوچکترین عدد یکرقمی و بقیه‌ی رقم‌ها ۹ باشد.

۲

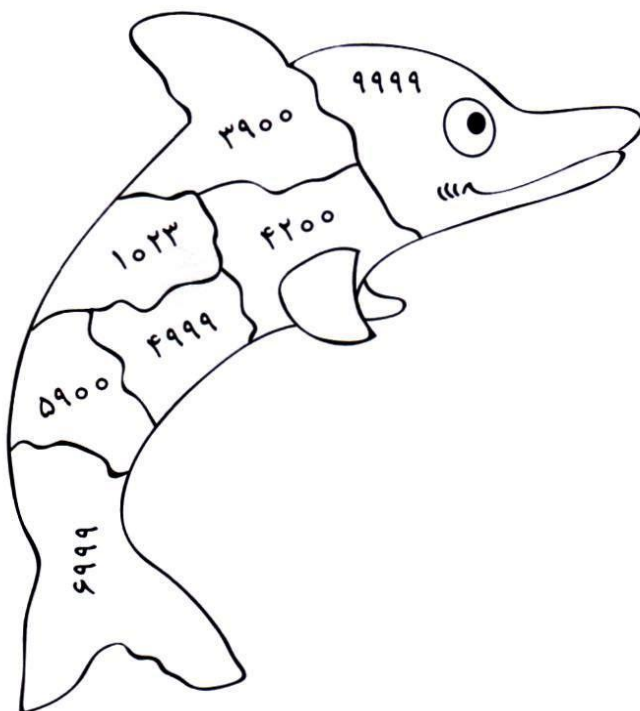
عدد:

حروف:

۳ عددها را به رقم یا حروف بنویس.

۳

۷۸۲۹	.....	۵۶۰۰	.....
.....	سه هزار و چهارصد و نه	.....	چهار هزار و دوازده



۴ با توجه به سؤال، دلفین را رنگ کن.

۴

- \* قبل از عدد ۵۰۰۰ (زرد)
- \* ۳ تا هزارتایی و ۱۲ تا صدتایی (نارنجی)
- \* بزرگترین عدد چهاررقمی (آبی)
- \* هزار تا بیش‌تر از ۴۹۰۰ (قرمز)
- \* کوچکترین عدد چهاررقمی غیر تکراری (قهوه‌ای)
- \* از عدد ۷۰۰۰، یکی کم‌تر. (مشکی)
- \* از عدد ۴۰۰۰، صدتا کم‌تر (صورتی)


۵ عددهای داده شده را از کوچک به بزرگ مرتب کن.

۹۷۰۰ - ۷۹۰ - ۷۰۰۹ - ۷۹۰۰ - ۹۰۰۷

۶ پریسا برای خرید یک بسته شکلات ۸۵۰۰ تومانی و یک بسته آدامس ۷۵۰۰ ریالی باید چند تومان به فروشنده بدهد؟

.....  
.....  
.....

۷ برای خرید وسایل زیر چند تومان باید پرداخت؟



۸ زهرا برای درست کردن کاردستی یک بار ۷ سانتی متر فوم و بار دیگر ۲۶ میلی متر فوم خرید. او روی هم چند میلی متر فوم خرید؟

۹ پارسا روی کاغذ خطهای ۵ میلی متری به دنبال هم می کشد. اگر طول کاغذ او ۲ سانتی متر باشد، پارسا می تواند چند تا خط بکشد؟

۱۰ در جاهای خالی عدد مناسب بنویس.

۱۰۰۰ ریال یعنی ..... تومان

۹ سانتی متر ..... میلی متر

۱۰ تومان یعنی ..... ریال

۷۸۰ میلی متر ..... سانتی متر

۹۵۰۰ ریال یعنی ..... تومان

۵ سانتی متر و ۶ میلی متر می شود ..... میلی متر