
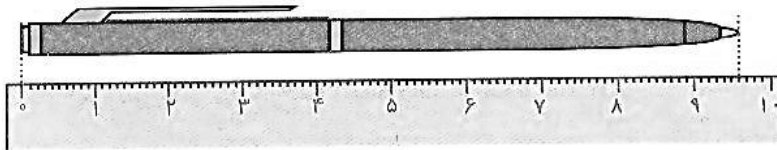


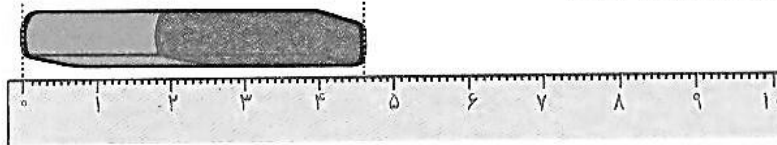
مانند نمونه در جاهای خالی عدد مناسب بنویس.



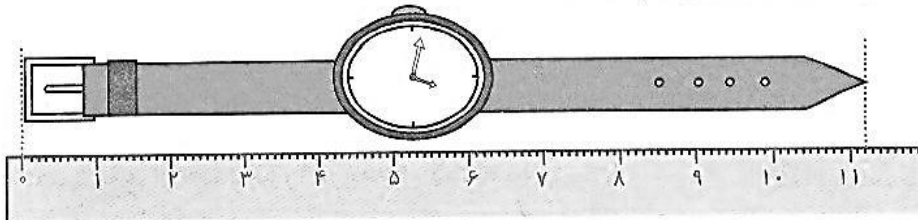
طول مداد ..... ۷ ..... سانتی‌متر و  $\frac{۴}{۱۰}$  سانتی‌متر است.




طول خودکار ..... سانتی‌متر و ..... سانتی‌متر است.



طول پاک‌کن ..... سانتی‌متر و ..... سانتی‌متر است.




طول ساعت‌مچی ..... سانتی‌متر و ..... سانتی‌متر است.



طول این خط ۳ سانتی‌متر و  $\frac{۵}{۱۰}$  سانتی‌متر است.

مانند نمونه یک خط رسم کن که طول آن ۴ سانتی‌متر و  $\frac{۳}{۱۰}$  سانتی‌متر باشد.



یک خط رسم کن که طول آن ۵ سانتی‌متر و  $\frac{۷}{۱۰}$  سانتی‌متر باشد.

