



گزینه صحیح را با علامت (x) مشخص کنید.

۱. حاصل کدام عبارت با حاصل ضرب  $4 \times 6$  برابر است؟

(د)  $4 \times 6$

(ج)  $4 + 4 + 4$

(ب)  $3 \times 8$

(الف)  $6 + 4$

۲. کدام ضرب می تواند با ضرب  $3 \times 7$  برابر باشد؟

(د)  $4 \times 7$

(ج)  $7 \times 3$

(ب)  $1 \times 7$

(الف)  $2 \times 7$

۳. برای کدام ضرب نمی توانیم جمع بنویسیم؟

(د)  $2 \times 8$

(ج)  $3 \times 1$

(ب)  $1 \times 4$

(الف)  $2 \times 5$

۴. پاسخ کدام عبارت، با پاسخ ضرب  $6 \times 9$  برابر است؟

(ب)  $(9 \times 6) + (1 \times 6)$

(الف)  $(5 \times 6) + (4 \times 6)$

(د)  $(2 \times 6) + (4 \times 6)$

(ج)  $(7 \times 6) + (3 \times 6)$

۵. اگر شیرین روزی ۹ مسئله حل کند، کتابش یک هفته ای تمام خواهد شد. کتاب او چند مسئله دارد؟

(د) ۷۲

(ج) ۵۴

(ب) ۶۰

(الف) ۶۳

۶. یک سکه ۱۰ تومانی چند برابر یک سکه ۲ تومانی است؟

(د) ۳ برابر

(ج) ۵ برابر

(ب) ۸ برابر

(الف) ۱۰ برابر

۷. ضرب نظیر تقسیم زیر کدام است؟

$24 \div 3 = \dots\dots\dots$

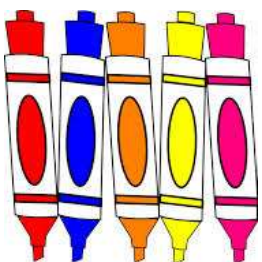
(د)  $7 \times 3$

(ج)  $4 \times 6$


(ب)  $4 \times 6$

(الف)  $8 \times 3$

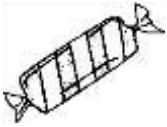
۸. اگر قیمت ۵ مداد ۴۰ تومان باشد، قیمت یک مداد چند تومان است؟



۹. شایان ۴۲ توپ رنگی دارد. اگر بخواهد به طور مساوی آن ها را در ۶ جعبه جا بدهد، در هر جعبه چند توپ باید بگذارد؟



۱۰. زهرا ۵ بسته ۶ تایی شکلات داشت. مادر زهرا هم به او ۴ شکلات داد. زهرا چند شکلات دارد؟



۱۱. قیمت ۴ عدد برچسب ۲۸ تومان است. ۸ برچسب چند تومان است؟

۱۲. حسن آقا ۵ گاو دارد. او چهاربرابر تعداد گاوها گوسفند دارد.  
الف) چند گوسفند دارد؟



ب) حسن آقا چند گاو و گوسفند دارد؟

۱۳. محیا ۸ سال دارد. پدرش ۶ برابر سن او دارد. پدر محیا چند سال دارد؟ آن ها روی هم چند سال دارند؟

۱۴. اگر ۲۶ شاخه گل را بین منوچهر، علی، سینا و کمال به طور مساوی تقسیم کنیم، چند شاخه گل اضافه خواهد آمد؟

سوال گانگورو

(د) ۵

(ج) ۳

(ب) ۲

(الف) ۱

