



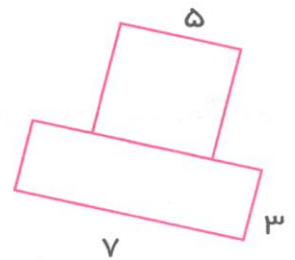
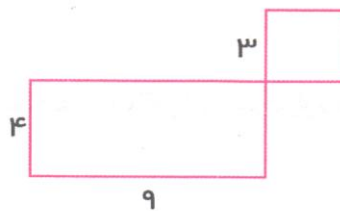
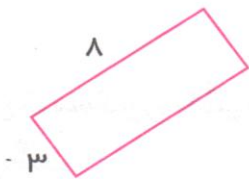
سلام داناى كوشا!

ریاضی فصل پنجم - مساحت مربع و مستطیل

- ۱- جاهای خالی را با کلمه‌های مناسب کامل کنید:
- (الف) به سطح هر شکل و به اندازه‌ی دور هر شکل گویند.
- (ب) واحد اندازه‌گیری مساحت است.
- (ج) به ضلع بزرگ مستطیل یا گویند.
- (د) به ضلع کوچک مستطیل یا گویند.

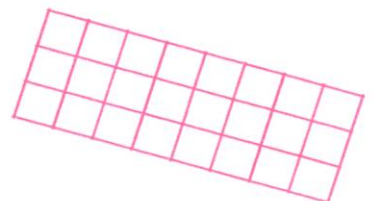


۲- مساحت هر شکل را به دست آورید:

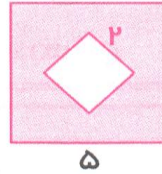
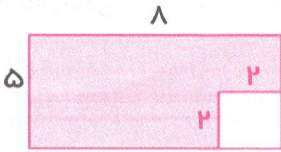


۳- باغچه‌ای است به شکل مربع که طول آن ۹ متر است. می‌خواهیم داخل باغچه را شخم بزنیم چه سطحی باید شخم زده شود؟

۴- برای مساحت هر یک از شکل‌های زیر یک تساوی ضرب بنویسید:

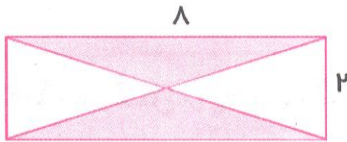


۵- مساحت قسمت رنگی هر شکل را حساب کنید:




۶- مریم خانم برای اتاقش یک فرش ۶ متری خرید. اگر طول اتاق ۴ متر و عرض اتاق ۳ متر باشد. آیا این فرش برای اتاق مناسب است؟

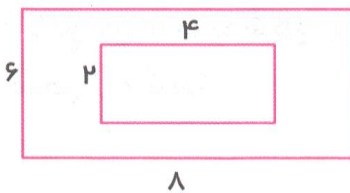
۷- مساحت قسمت رنگ شده‌ی مقابل را به دست آورید.



۸- یک مستطیل بکشید که مساحتش با مساحت مستطیل زیر برابر باشد ولی اندازه‌ی ضلع‌هایش متفاوت باشد.



۹- مساحت مستطیل بزرگ چند برابر مساحت مستطیل کوچک است؟



۱۰- زمین فوتبالی داریم که طول آن ۱۰ متر و عرض آن ۵ متر است. می‌خواهیم داخل این زمین را چمن بکاریم، چه سطحی باید چمن کاری شود؟

