

به نام خدا

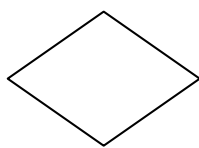
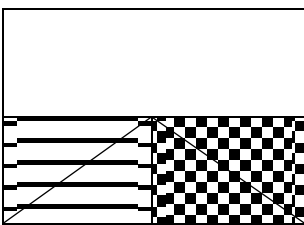
دبستان شهیدباهنر

آزمون مدادکاغذی ریاضی

طراح: فاطمه عابدینی

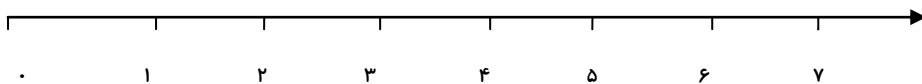
کلاس سوم

نام و نام خانوادگی

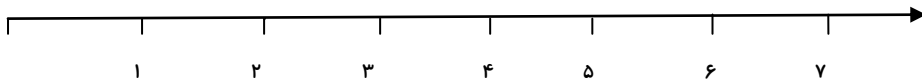
<p>۱</p> <p>درست یا نادرست بودن جمله های زیر را مشخص کنید</p> <p>ربع یک مربع یعنی $\frac{1}{5}$ آن رنگ شده است <input type="checkbox"/> درست <input type="checkbox"/> نادرست</p> <p>کسر $\frac{1}{3}$ با $\frac{2}{6}$ برابر است <input type="checkbox"/> درست <input type="checkbox"/> نادرست</p> <p>$\frac{1}{3}$ لیوان آب با $\frac{1}{3}$ پارچ آب برابر است <input type="checkbox"/> درست <input type="checkbox"/> نادرست</p>	
<p>۲</p> <p>کلم جاهای خالی را کامل کن.</p> <p>۹ کیلومتر و ۲۷۴ متر می شودمتر</p> <p>۲۶۰۰ گرم برابر است با کیلوگرم و گرم</p> <p>بلندی پرده ی در اتاق ۲..... است</p>	
<p>۳</p> <p>برای شکل مقابل چند خط تقارن می توان رسم کرد؟</p> <p>الف: ۱ ب: ۲ ج: ۳ د: ۴</p> 	
<p>۴</p> <p>کدام مقدار پول ارزش بیشتری دارد؟</p> <p>الف: ۳۵۰ تومان ب: ۳۵ ریال ج: ۳۵۰ ریال د: ۳۵ تومان</p>	
<p>۵</p> <p>در جاهای خالی عدد ($<=>$) بگذار.</p> <p>$۴۲۵۰ \bigcirc ۴۵۲$</p> <p>$۷۰۰۱ \bigcirc ۷۰۱$</p> <p>$۶۰۰۰ - ۳۰۰۰ \bigcirc ۲۰۰۰ + ۳۰۰۰ + ۱۰۰ + ۱۰$</p> <p>$۲۰۰۰ \bigcirc ۱۰۰۰ + ۵۰۰ + ۲۵۰ + ۲۵۰$</p>	
<p>۶</p> <p>عددی هستم چهاررقمی که رقم یکانم ۶، دهگانم ۴، صدگانم بزرگترین عدد زوج یک رقمی و هزارگانم بزرگترین عدد فرد یک رقمی است</p> <p>به رقم به حروف</p>	
<p>۷</p> <p>هواپیمایی ساعت ۱۰ صبح از تهران حرکت کرد و ۳ ساعت بعد به تبریز رسید هواپیما چه ساعتی به تبریز رسیده است؟</p> <p>ساعت یا بعداز ظهر</p>	
<p>۸</p> <p>با توجه به شکل به سؤالات پاسخ بده .</p> <p>الف : چه کسری از شکل هاشور خورده است</p> <p>ب : چه کسری از شکل سفید است</p> <p>ج : چه کسری از شکل نقطه چین است</p> <p>د : چه کسری از شکل رنگی است</p> 	

روی محور نشان بده .

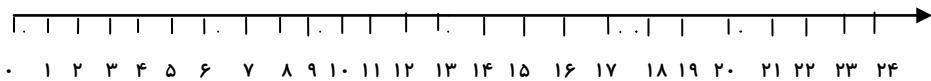
۴ واحد و $\frac{1}{4}$ واحد



$\frac{2}{4}$ واحد قبل از عدد ۷



$(3 \times 4) = (4 \times 3)$



۱۰ یک گل فروش هر شاخه گل را ۵۰۰ تومان می خرد و ۶۰۰ تومان می فروشد با فروش یک شاخه گل چند تومان سود می کند؟

اگر ۴ شاخه گل بفروشد چقدر سود می کند؟

شاخه					
گل					
سود					

چند شاخه گل بفروشد تا با سود ان یک شاخه گل بخرد؟

۱۱ هر شکل را با دو نوع دسته بندی شمارش کنید و برای آن ضرب بنویسید



.....x.....=.....

.....x.....=.....

.....x.....=.....

.....x.....=.....

تسلط کم	تسلط متوسط	تسلط خوب	تسلط کافی		
				کسرهای مساوی را تشخیص می دهد	۱
				تبدیل واحد ها را به درستی انجام می دهد	۲
				تمام خط های تقارن یک شکل را رسم می کند	۳
				تبدیل ریال به تومان و برعکس را به درستی انجام می دهد	۴
				اعداد چهاررقمی را به درستی مقایسه می کند	۵
				عددنویسی را به خوبی انجام می دهد	۶
				ساعت در بعداز ظهر را به دو صورت می نویسد	۷
				برای شکل کسر مناسب می نویسد	۸
				(عدد و کسر) و ضرب را روی محور درست نشان می دهد	۹
				سؤال با استفاده از جدول نظام دار را پاسخ می دهد و الگوی عددی را کشف می کند	۱۰
				شکل را دسته بندی می کند و برای آن تساوی ضرب مینویسد	۱۱

باز خورد توصیفی آموزگار:

خودسنجی: