


آزمون ریاضی پایه سوم ابتدایی

۱- در جاهای خالی عدد مناسب بنویسید.

..... یکی و ده تایی و صدتایی = ۹۷۸

۲- کتابخانه دبستان یادآور آن ۴۲۳ کتاب داشت. دانش آموزان این دبستان ۷۳ کتاب را به دبستان دیگری هدیه کردند. حالا این کتابخانه چند کتاب دارد؟

۳- با توجه به شکل مقدار هر کدام را در جدول ارزش مکانی نشان دهید.


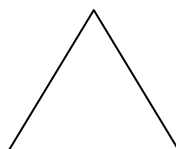
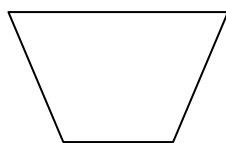


هزارتایی	صدتایی	ده تایی	یکی

۴- حاصل جمع و تفریق های زیر را بنویسید.

$+856$	-156	$+9874$	-1757	$+43087$
۱۲۳	۴۵۸	۳۴۳	۲۲۲	۴۳۲۴

۵- هر یک از شکلهای زیر چند ضلع دارد؟



۶- حامد روزی ۵۹ صفحه کتاب می خواند در ۷ روز او چند صفحه کتاب خواهد خواند؟

۷- در جاهای خالی عدد مناسب بنویسید.

$۸ \times ۷ = \square$

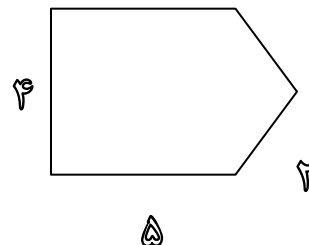

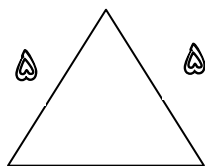
$۹ \times ۵ = \square$

$۱۱ \times ۴ = \square$

$۷ \times ۷ = \square$

۸- مادر علی خیاطی می کند. او به هر پیراهن ۵ دکمه می دوزد. ۳۰ دکمه را به چند پیراهن می تواند بدوزد؟

۹- محیط هر یک از شکلهای زیر را حساب کنید.



۱۰- کلاسی ۳ ردیف میز و نیمکت دارد در هر ردیف ۴ میز و نیمکت چیده اند. اگر روی هر نیمکت ۳ دانش آموز بنشینند، این کلاس چند دانش آموز دارد؟

۱۱- تقسیم های زیر را انجام دهید.

$$\begin{array}{r} ۱۶ \quad ۲ \\ \hline \end{array}$$

$$\begin{array}{r} ۲۵۴ \quad ۴ \\ \hline \end{array}$$

$$\begin{array}{r} ۳۰ \quad ۵ \\ \hline \end{array}$$

$$\begin{array}{r} ۷۸ \quad ۴ \\ \hline \end{array}$$