



به نام خدا

مرکز آموزشی غیردولتی دخترانه دو زبانه هوشمند پیوند

پایه سوم - ره آورد هفته

نام آموزگار:

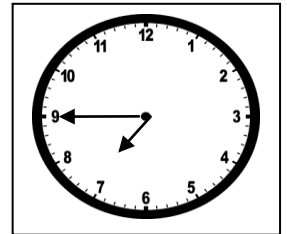
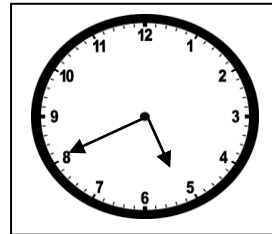
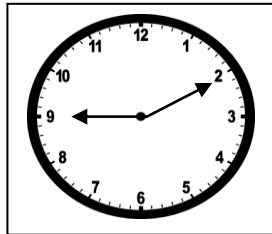
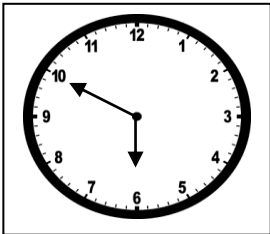
نام و نام خانوادگی:

۱) مشخص کنید هر کدام از عددهای زیر، بین چه عددهایی قرار دارند؟

$$\square \longleftarrow \frac{1}{5} \text{ واحد بعد از } 7 \longrightarrow \square \qquad \square \longleftarrow \frac{3}{4} \text{ واحد بعد از } 3 \longrightarrow \square$$

$$\square \longleftarrow \frac{7}{9} \text{ واحد مانده به عدد } 2 \longrightarrow \square \qquad \square \longleftarrow \frac{5}{8} \text{ واحد مانده به عدد } 6 \longrightarrow \square$$

۲) کسر ساعت های زیر را بنویسید.



.....

۳) خواهر سارا از او ۸ سانتی متر بلند تر و برادرش ۱۲ سانتی متر از او کوتاه تر است. اگر اندازه ی قد سارا، ۱۵۳

سانتی متر باشد:

* قد سارا به اندازه ی چه کسری بیشتر از یک متر است؟

* قد برادر سارا، به اندازه ی چه کسری بیشتر از یک متر است؟

* قد خواهر سارا، به اندازه ی چه کسری بیشتر از یک متر است؟


۴) جاهای خالی را با اعداد مناسب پر کنید.

- ۴۵۸ سانتی متر یعنی متر و سانتی متر یا متر و متر .
- ۷۸۴۵ متر یعنی کیلومتر و متر یا کیلومتر و کیلومتر .
- ۱۰۲۵ متر یعنی کیلومتر و متر یا کیلومتر و کیلومتر .
- ۵۰۴۵ گرم یعنی کیلوگرم و گرم یا کیلوگرم و کیلوگرم .

۵) برای هر کسر، سه کسر مساوی بنویسید و سپس روی شکل نشان دهید.

$$\frac{1}{2} = \underline{\hspace{2cm}} = \underline{\hspace{2cm}}$$


$$\frac{3}{5} = \underline{\hspace{2cm}} = \underline{\hspace{2cm}}$$



۶) ساعت ۴:۴۵ دقیقه را روی ساعت نشان دهید.

* چه کسری از یک ساعت، از ساعت ۴ گذشته است؟

* چه کسری از یک ساعت، به ساعت ۵ مانده است؟



۷) ساعت ۸:۲۰ دقیقه را روی ساعت نشان دهید.

* چه کسری از یک ساعت، از ساعت ۸ گذشته است؟

* چه کسری از یک ساعت، به ساعت ۹ مانده است؟

۸) درسا در هر شبانه روز، ۸ ساعت می خوابد. او چه کسری از شبانه روز را در خواب است؟

۹) کارمندان اداره ای ساعت ۷:۳۰ سرکار می روند. و ساعت ۴ بعدازظهر از اداره خارج می شوند. این کارمندان چند ساعت در روز کار می کنند؟

۱۰) فاصله ی خانه ی مریم تا مدرسه اش ۴ کیلومتر و ۷۰۰ متر است. اگر او ۲ کیلومتر و ۹۰۰ متر راه را پیموده باشد، چند متر دیگر باید برود تا به مدرسه اش برسد؟