



کلاس : ششم

هوالعلم

آزمون مطالعات اجتماعی :

دبستان غیردولتی بحرالعلوم

میان نوبت اول ، درس : ۱ تا ۱۲

نام و نام خانوادگی :

(۳ نمره)

پاسخ صحیح را با علامت X مشخص کنید. (هر مورد ۵/۰ نمره)

۱- کدام گزینه درست نیست؟

۲) انسان موجودی اجتماعی است

۱) دوستی یک نیاز است

۴) تنهایی برای انسان احساس فوهایندی است

۳) دوست مایه ی آرامش است

۲- مهم ترین علت پیشرفت و گسترش علوم و فنون در دوره ی اسلامی چه بود؟

۲) حمایت فرمانرویان از دانشمندان

۱) نیازهای جدید جوامع مسلمان

۴) تجارت و بازرگانی

۳) تعالیه دین اسلام

۳- در کدام استان معادن اورانیوم وجود دارد؟

۴) استان خوزستان

۳) استان کرمان

۲) استان یزد

۱) استان اصفهان

۴- مهم ترین منابع غذایی ما کدام است؟

۴) محصولات جالیزی

۳) مرکبات

۲) حبوبات

۱) غلات

۵- به چه ساعتی پیک یا اوج بار می گویند؟

۴) ۷ تا ۱۰ شب

۳) ۱۱ صبح تا ۲ بعد از ظهر

۲) ۷ تا ۱۱ صبح

۱) ۷ تا ۱۱ شب

۶- منابع گاز خانگیان در کدام استان قرار دارد؟

۴) استان فراسان (ضوی)

۳) استان خوزستان

۲) استان اصفهان

۱) استان بوشهر

(۳ نمره)

جاهای خالی را با کلمات مناسب پر کنید. (هر مورد ۵/۰ نمره)

۷- استفاده از فکر و تجربه ی دیگران در تصمیم گیری ها را می گوئیم.

۸- با ایجاد می توانیم هر محصول را در هر منطقه ی آب و هوایی کشت کنیم.

۹- معروف ترین بیمارستان دوره ی اسلامی بیمارستان عضدالدوله ی دیلمی در بود و نیز داشت.

۱۰- مسلمانان فن کاغذسازی را از آموخته بودند و آن را گسترش دادند.

۱۱- یکی از مهمترین مراکز علمی جهان اسلام، دانشگاه بود.

(۲/۵ نمره)

به سؤالات زیر پاسخ کوتاه دهید .

۱۲- کدام رود از وسط شهر اصفهان عبور می کند ؟

۱۳- میدان امام (نقش جهان) به فرمان چه کسی ساخته شد ؟

۱۴- صفویان کدام مذهب را مذهب رسمی کشور اعلام کردند ؟

۱۵- صفویان در غرب و در شرق با چه کسانی جنگیدند ؟

به سوالات زیر پاسخ کامل دهید.

۱۶ - باغداری یعنی چه؟ یک مثال بزنید.

(۱/۵ نمره)

۱۷ - مهمترین علل پیشرفت علمی مسلمانان را نام ببرید؟ (۶ مورد)

(۳ نمره)

۱۸ - اصطلاحات زیر را تعریف کنید.

(۴/۵ نمره)

الف) نظامیه :

ب) برق حرارتی :

ج) کاروانسرا :

د) سده :

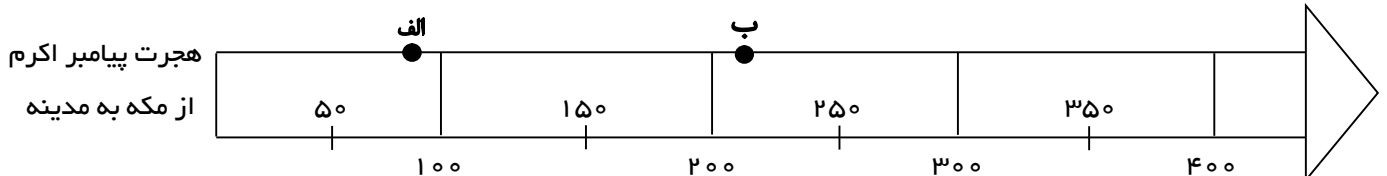
۱۹ - در جدول زیر سوخت های فسیلی را با انرژی خورشیدی مقایسه کنید.

(۲ نمره)

انرژی خورشیدی	سوخت های فسیلی	
		از نظر تمام شدن
		از نظر آلودگی

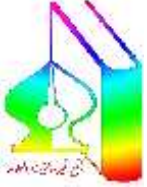
۲۰ - خط زمان را بخوانید و به پرسش ها پاسخ دهید.

(۱ نمره)



۱ - « الف » در چه قرنی زندگی می کرده است؟

۲ - بنای « ب » در چه قرنی ساخته شده است؟



کلاس : ششم

هوالعلم

آزمون مطالعات اجتماعی :

دبستان غیردولتی بحرالعلوم

پاسخنامه

میان نوبت اول ، درس : ۱ تا ۱۲

نام و نام خانوادگی :

(۳ نمره)

پاسخ صحیح را با علامت x مشخص کنید. (هر مورد ۰/۵ نمره)

۱- کدام گزینه درست نیست؟

۱) دوستی یک نیاز است

۲) انسان موجودی اجتماعی است

۳) دوست مایه ی آرامش است

۴) **تنهایی برای انسان اساس فوشارپندی است**

۲- مهم ترین علت پیشرفت و گسترش علوم و فنون در دوره ی اسلامی چه بود؟

۱) نیازهای جدید جوامع مسلمان

۲) حمایت فرمانرویان از دانشمندان

۳) **تعالیم دین اسلام**

۴) تجارت و بازرگانی

۳- در کدام استان معادن اورانیوم وجود دارد؟

۱) استان اصفهان

۳) استان کرمان

۲) **استان یزد**

۴) استان خوزستان

۴- مهم ترین منابع غذایی ما کدام است؟

۱) **غلات**

۲) حبوبات

۳) مرکبات

۴) محصولات جالیزی

۵- به چه ساعتی پیک یا اوج بار می گویند؟

۱) **۷ تا ۱۱ شب**

۲) ۷ تا ۱۱ صبح

۳) ۱۱ صبح تا ۲ بعد از ظهر

۴) ۷ تا ۱۰ شب

۶- منابع گاز خانگیران در کدام استان قرار دارد؟

۱) استان بوشهر

۲) استان اصفهان

۳) استان خوزستان

۴) **استان فراسان رضوی**

(۳ نمره)

جاهای خالی را با کلمات مناسب پر کنید. (هر مورد ۰/۵ نمره)

۷- استفاده از فکر و تجربه ی دیگران در تصمیم گیری ها را **مشورت** می گوئیم.

۸- با ایجاد **گلفانه** می توانیم هر محصول را در هر منطقه ی آب و هوایی کشت کنیم.

۹- معروف ترین بیمارستان دوره ی اسلامی بیمارستان عضدالدوله ی دیلمی در **بغداد** بود و **داروفانه** نیز داشت.

۱۰- مسلمانان فن کاغذسازی را از **چینی ها** آموخته بودند و آن را گسترش دادند.

۱۱- یکی از مهمترین مراکز علمی جهان اسلام، دانشگاه **چندی شاپور** بود.

(۲/۵ نمره)

به سؤالات زیر پاسخ کوتاه دهید .

۱۲- کدام رود از وسط شهر اصفهان عبور می کند ؟ **زاینده رود**

۱۳- میدان امام (نقش جهان) به فرمان چه کسی ساخته شد ؟ **شاه عباس صفوی**

۱۴- صفویان کدام مذهب را مذهب رسمی کشور اعلام کردند ؟ **مذهب شیعه**

۱۵- صفویان در غرب و در شرق با چه کسانی جنگیدند ؟ **در غرب با عثمانی ها و در شرق با ازبکان**

به سؤالات زیر پاسخ کامل دهید.

(۱/۵ نمره)

۱۶- باغداری یعنی چه ؟ یک مثال بزنید .

یعنی کشت و پرورش نهال درختان که بعد از گذشت یک یا چند سال محصول می دهند . مثل : پرتقال، سیب، انار، فرما و ...

(۳ نمره)

۱۷- مهمترین علل پیشرفت علمی مسلمانان را نام ببرید ؟ (۶ مورد)

- ۱- تعالیم دین اسلام ۲- نیازهای جدید جوامع مسلمان ۳- حمایت فرمانروایان از دانشمندان
۴- تجارت و بازرگانی ۵- ترجمه ۶- کاغذسازی

(۴/۵ نمره)

۱۸- اصطلاحات زیر را تعریف کنید.

الف) نظامیه : مدارس بودند که عده ی زیادی از افراد در آنجا علم می آموختند و همان جا زندگی می کردند و حکومت فرج تمصیل و زندگی آن ها را می داد .

ب) برق حرارتی : در این نیروگاه ها با سوزاندن سوخت های فسیلی، آب را به بخار تبدیل می کنند، فشار بخار آب توربین ها را به حرکت در می آورد و برق تولید می شود .

ج) کاروانسرا : کاروانسراها محل استراحت و تأمین آذوقه ی مسافران و چهارپایانی بود که راه های طولانی را از شهری به شهر دیگر طی می کردند.

د) سده : به هر صد سال یک قرن یا یک سده می گویند .

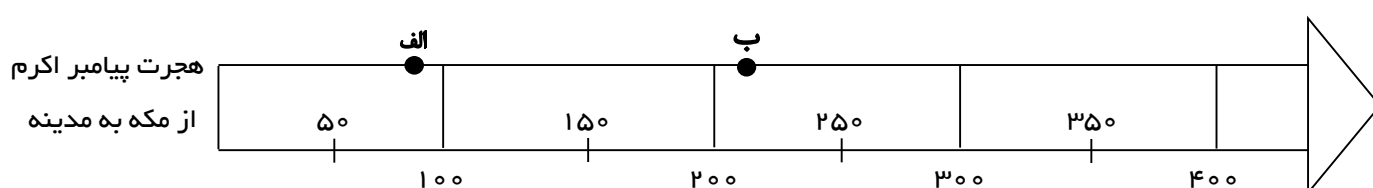
(۲ نمره)

۱۹- در جدول زیر سوخت های فسیلی را با انرژی خورشیدی مقایسه کنید.

انرژی خورشیدی	سوخت های فسیلی	
تمام نمی شوند	تمام می شوند	از نظر تمام شدن
آلودگی ندارند	آلودگی دارند	از نظر آلودگی

(۱ نمره)

۲۰- خط زمان را بخوانید و به پرسش ها پاسخ دهید.



۱- « الف » در چه قرنی زندگی می کرده است ؟ نیمه ی دوم قرن اول

۲- بنای « ب » در چه قرنی ساخته شده است ؟ نیمه ی اول قرن سوم