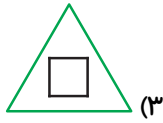


به سوالات هوش و استعداد زیر پاسخ دهید.

۱- کدام تصویر با بقیه متفاوت است؟ (با توجه به هر دو شکل هر گزینه)



(۴)



(۳)

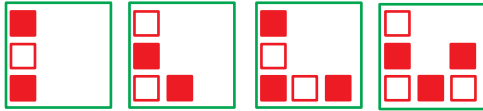


(۲)



(۱)

۲- کدام شکل زیر در ادامه ی الگو قرار دارد؟

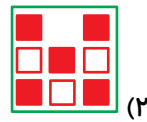


(۱)

(۲)

(۳)

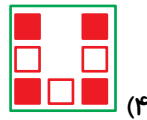
(۴)




(۲)



(۱)

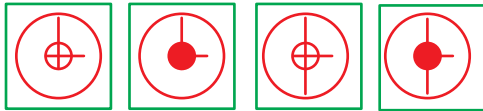


(۴)



(۳)

۳- کدام شکل زیر در ادامه ی الگو قرار دارد؟

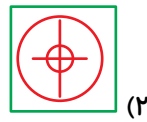


(۱)


(۲)

(۳)

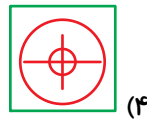
(۴)




(۲)



(۱)

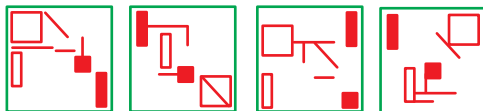


(۴)



(۳)

۴- کدام گزینه هماهنگی بیش تری دارد؟

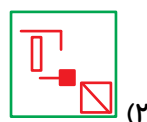


(۱)

(۲)

(۳)

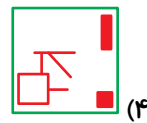
(۴)



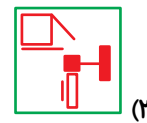
(۲)



(۱)

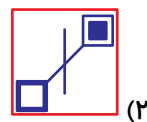
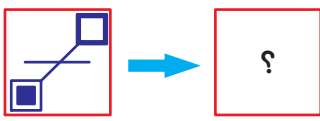
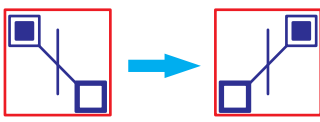


(۴)

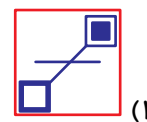


(۳)

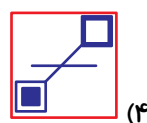
۵- علامت سؤال را در شکل زیر بیابید.



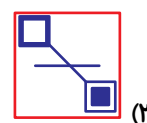
(۲)



(۱)

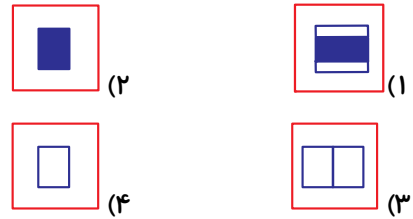
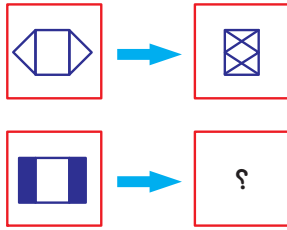


(۴)

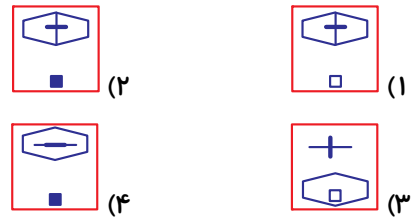
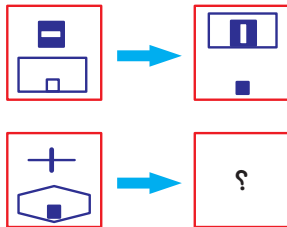


(۳)

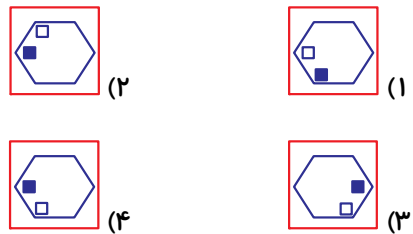
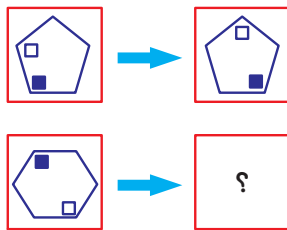
۶- علامت سؤال را در شکل زیر بیابید.



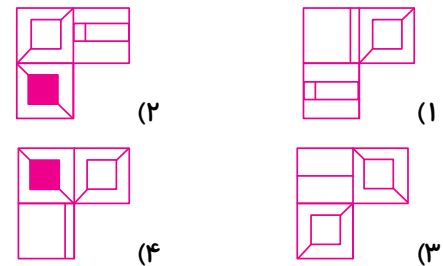
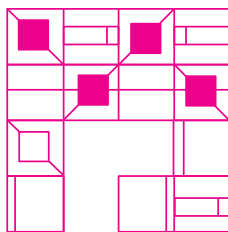
۷- علامت سؤال را در شکل زیر بیابید.



۸- علامت سؤال را در شکل زیر بیابید.

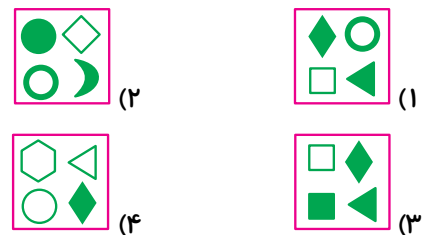
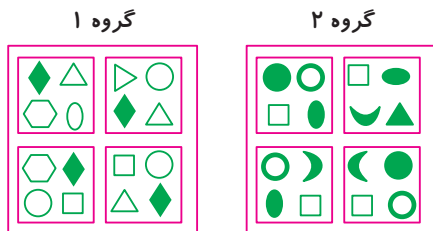


۹- کدام گزینه، شکل روبه‌رو را کامل می‌کند؟



۱۰- هر یک از شکل‌ها در گروه‌های (۱) و (۲) دارای ویژگی مشترکی هستند، کدام یک از گزینه‌ها نمی‌تواند در

هیچ کدام از دو گروه جای بگیرد؟



۱- گزینه‌ی «۱»

در همه‌ی گزینه‌ها به جز گزینه‌ی «۱»، تعداد ضلع‌های شکل داخلی، یکی بیش‌تر از تعداد ضلع‌های شکل بیرونی است.

۲- گزینه‌ی «۴»

در هر مرحله یک مربع اضافه می‌شود و جای مربع سفید و قرمز عوض می‌شود.

۳- گزینه‌ی «۲»

در هر مرحله رنگ دایره‌ی کوچک داخلی تغییر می‌کند و در هر دو مرحله یک خط به داخل دایره به‌صورت ساعتگرد اضافه می‌شود. (در گزینه‌ی «۴» اندازه‌ی خط‌ها درست نیست).

۴- گزینه‌ی «۳»

تنها در گزینه‌ی «۳» تمامی شکل‌ها وجود دارد.

۵- گزینه‌ی «۳»

شکل بالا سمت چپ و بالا سمت راست، نسبت به محور عمودی وسط دو شکل قرینه هستند. پس شکل پایین سمت چپ هم باید نسبت به محور عمودی وسط دو شکل قرینه شود.

۶- گزینه‌ی «۲»

اگر شکل بالا سمت چپ را از گوشه‌های مثلثی خود تا بزنیم شکل بالا سمت راست به‌دست می‌آید. اگر این کار را با شکل پایین سمت چپ انجام دهیم، شکل گزینه‌ی «۲» به‌دست می‌آید.

۷- گزینه‌ی «۱»

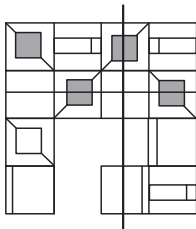
در شکل بالا سمت راست، مستطیل بزرگ پایینی در شکل سمت چپ بالا می‌آید و شکل بالایی آن ۹۰ درجه چرخیده است. رنگ مربع کوچک پایینی در شکل سمت چپ هم تغییر کرده است. این فرآیند برای شکل‌های سطر پایینی هم باید طی شود.

۸- گزینه‌ی «۴»

در شکل بالا سمت چپ مربع سفید یک ضلع ساعتگرد و مربع سیاه یک ضلع پادساعتگرد (خلاف گردش ساعت) جابه‌جا می‌شود و به شکل بالا سمت راست تبدیل می‌شود. اگر این کار را با شکل پایین سمت چپ انجام دهیم، گزینه‌ی «۴» به‌دست می‌آید.

۹- گزینه‌ی «۱»

ستون دوم و چهارم نسبت به این محور قرینه هستند. از طرفی هر شکل و قرینه‌ی آن نسبت به محور عمودی موجود است. (شکل‌ها دوبار تکرار شده‌اند).



۱۰- گزینه‌ی «۲»

اشتراک شکل‌های گروه ۱ لوزی سیاه و اشتراک شکل‌های گروه ۲ مربع سفید است. در گزینه‌ی «۲» لوزی سیاه و مربع سفید وجود ندارد؛ پس در هیچ گروهی نمی‌تواند قرار بگیرد. (در ضمن در سوالات هوش بین مربع و مربعی که کمی چرخیده است، یا کمی اندازه‌اش تغییر کرده تفاوت وجود دارد. البته بستگی به نوع سوال دارد).