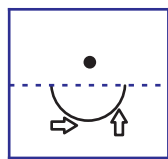


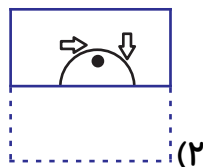
نمونه سوال هوش و استعداد

۱- تصویر (آ) روی کاغذ شفاف کشیده شده است. پس از تا کردن آن از محل خط چین

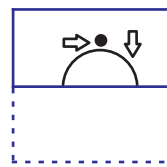
کدام تصویر دیده می‌شود؟



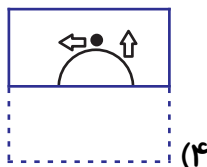
(آ)



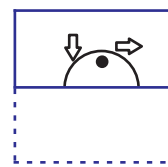
(۲)



(۱)

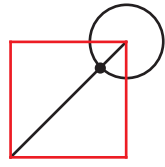
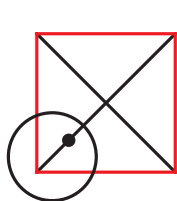


(۴)

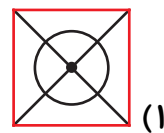


(۳)

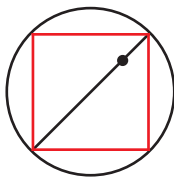
۲- در کدام گزینه جایگاه نقطه نسبت به شکل‌ها همانند تصویر داده شده است؟



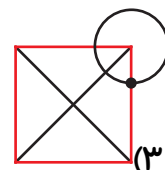
(۲)



(۱)

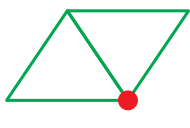



(۴)

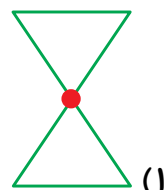


(۳)

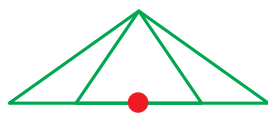
۳- با توجه به جایگاه نقطه نسبت به شکل‌ها، کدام گزینه همانند شکل داده شده است؟



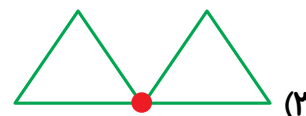
(۲)



(۱)




(۴)



(۳)

۴- از قرار دادن ۳ تا از شکل‌های زیر در کنار هم، یک مربع ساخته می‌شود. آن سه

شکل کدامند؟




(الف)



(ب)



(ج)



(د)

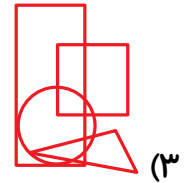
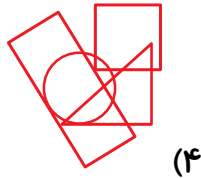
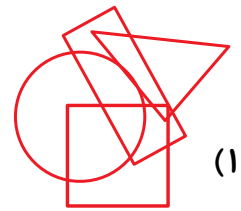
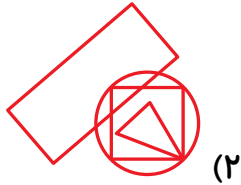
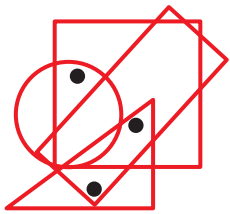
(۱) د- الف- ب

(۲) ج- ب- د


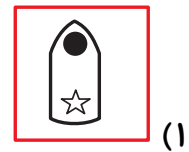
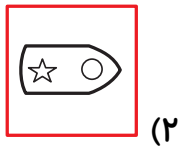

(۳) الف- ج- د

(۴) ب- الف- ج




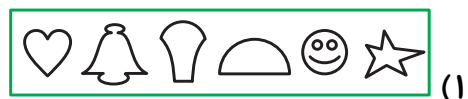

۵- محل قرارگیری نقاط در کدام گزینه می تواند همانند شکل زیر باشد؟



۶- به جای علامت سؤال، کدام یک از مربع های زیر قرار می گیرد؟



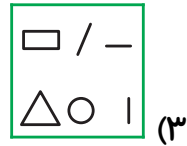
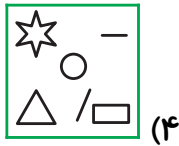
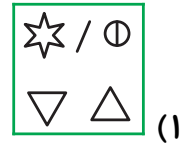
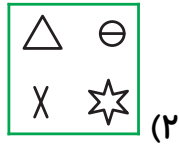
۷- شکل بعدی کدام است؟



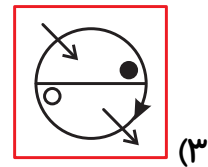
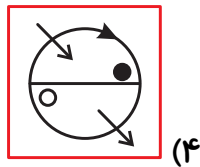
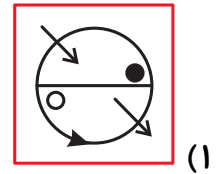
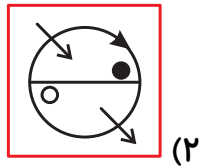
?

۸- در کدام تصویر، همه‌ی شکل‌های تصویر (ب) وجود دارد؟ (هیچ‌کدام از اشکال نباید


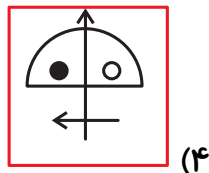
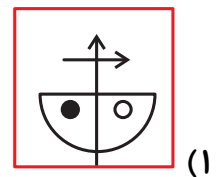
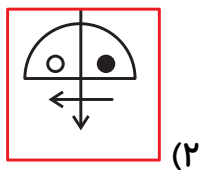
چرخیده باشند.)



۹- کدام تصویر با بقیه متفاوت است؟



۱۰- کدام تصویر با بقیه متفاوت است؟ (با توجه به یک فلش پاسخ ندهید.)



۱- گزینه‌ی «۲»

اگر مستطیل پایینی روی مستطیل بالایی تا زده شود، نیم‌دایره‌ی موردنظر برعکس می‌شود و دهانه‌ی آن به سمت پایین قرار می‌گیرد. جهت فلش رو به بالا نیز به سمت پایین و جهت فلش رو به راست همچنان به سمت راست قرار می‌گیرد.

۲- گزینه‌ی «۴»

نقطه‌ی داده شده درون دایره و روی فقط یکی از قطرهای مربع است. پس فقط گزینه‌ی «۴» می‌تواند درست باشد.

۳- گزینه‌ی «۴»

در شکل داده شده نقطه روی ضلع مشترک دو مثلث قرار دارد و نه روی رأس‌های مثلث‌ها. فقط در گزینه‌ی «۴» نقطه روی ضلع مشترک دو مثلث قرار دارد.

۴- گزینه‌ی «۱»

همان‌طور که مشخص است، اشکال (الف)، (ب) و (د) در کنار یکدیگر یک مربع را به وجود می‌آورند.



۵- گزینه‌ی «۱»

یکی از نقاط در قسمت مشترک مربع و دایره، یکی در قسمت مشترک مربع و مستطیل و مثلث و دیگری در قسمت مشترک مستطیل و مثلث قرار دارد. سه قسمت موردنظر تنها در شکل گزینه‌ی «۱» هر سه وجود دارند.

۶- گزینه‌ی «۱»

در هر ردیف دو شکل افقی و یک شکل عمودی داریم. پس در ردیف سوم نیز باید شکل عمودی داشته باشیم. همچنین در هر ردیف، تنها در یک شکل فضای بیرون ستاره و دایره رنگ شده است. پس با توجه به وجود شکل سمت چپ در ردیف سوم، گزینه‌ی «۱» درست است.

۷- گزینه‌ی «۲»

هر بار شکل دوم از سمت چپ هر ردیف به انتهای ردیف بعدی می‌رود و شکل دوم از سمت راست همواره به ابتدای ردیف بعدی منتقل می‌شود.

۸- گزینه‌ی «۲»

همه‌ی شکل‌های تصویر (ب) در تصویر گزینه‌ی «۲» وجود دارد.

۹- گزینه‌ی «۱»

فقط در تصویر گزینه‌ی «۱» حرکت فلش روی محیط دایره در خلاف جهت حرکت عقربه‌های ساعت (پادساعتگرد) است.

۱۰- گزینه‌ی «۴»

در گزینه‌های «۱»، «۲» و «۳» سر هر دو فلش در یک سمت نیم‌دایره قرار دارد. سر فلش افقی، دایره‌ی تو خالی را نشان می‌دهد.